

## Inademen

Bij controlemetingen aan de ademhaling wordt men gevraagd om diep uit te ademen en vervolgens gedurende vijf seconden zo diep mogelijk in te ademen.

Tijdens het inademen is de hoeveelheid verse lucht in de longen een functie van de tijd.

Voor gezonde mensen gebruiken we het volgende model:  $L(t) = 3,6(1 - e^{-2,5t})$ .

Hierbij is  $L$  de hoeveelheid verse lucht in liters en  $t$  de tijd in seconden ( $0 \leq t \leq 5$ ).

De maximale hoeveelheid verse lucht in de longen van gezonde mensen is volgens dit model ongeveer 3,6 liter.

- 3p 1  Bereken na hoeveel seconden 90% van deze maximale hoeveelheid verse lucht is ingeademd.

Astma is een aandoening aan de luchtwegen. Bij astmapatiënten is de maximale hoeveelheid verse lucht in de longen kleiner en duurt het langer voordat dit maximum bereikt wordt. Voor astmapatiënten gebruiken we het model:  $L_\alpha(t) = \alpha \cdot 3,6(1 - e^{-2,5\alpha t})$ .

Hierbij is  $\alpha$  een constante tussen 0 en 1 die afhankelijk is van de zwaarte van de astma.

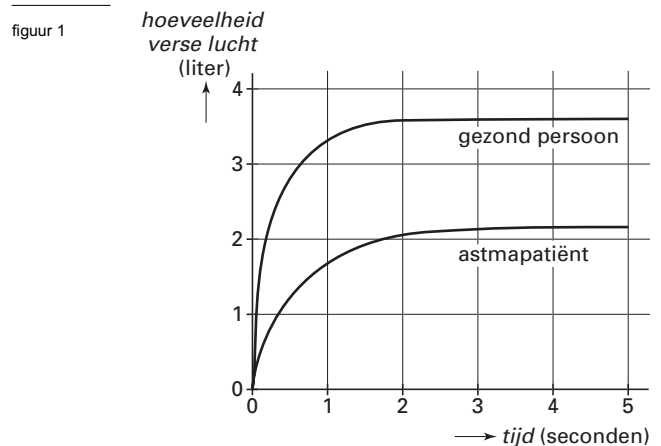
In figuur 1 is de grafiek van de hoeveelheid ingeademde verse lucht getekend voor een gezond persoon en voor een zekere astmapatiënt.

- 4p 2  Bereken voor deze astmapatiënt  $\alpha$  in één decimaal nauwkeurig. Licht je werkwijze toe.

Een gezond persoon heeft na 2 seconden al 99% van de maximale hoeveelheid verse lucht van 3,6 liter ingeademd.

Voor een bepaalde astmapatiënt geldt  $\alpha = 0,3$ .

- 4p 3  Bereken hoeveel procent van de maximale hoeveelheid verse lucht deze astmapatiënt na 2 seconden heeft ingeademd.



Ga bij de volgende vraag weer uit van de formule  $L_\alpha(t) = \alpha \cdot 3,6(1 - e^{-2,5\alpha t})$ .

De snelheid waarmee de hoeveelheid verse lucht toeneemt, is maximaal op het tijdstip  $t = 0$ .

- 5p 4  Bereken voor welke waarde van  $\alpha$  deze maximale snelheid gelijk is aan 4,5 liter per seconde.

## Lichaamsgewicht

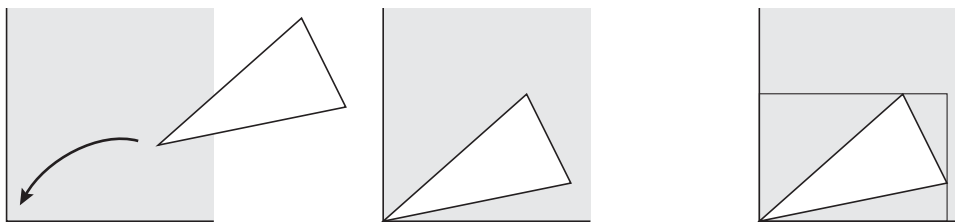
Het gewicht van volwassen Nederlanders is bij benadering normaal verdeeld met gemiddelde 76 kg en standaardafwijking 10 kg. In deze opgave werken we met deze normale verdeling.

Bij een onderzoek worden 1200 personen gewogen.

- 3p 5  Bereken de verwachtingswaarde van het aantal proefpersonen met een gewicht tussen 66 en 86 kg.
- 5p 6  Bereken de kans dat van twee willekeurig gekozen personen er één zwaarder is dan 82 kg en één lichter dan 82 kg.

## Rechthoek om driehoek

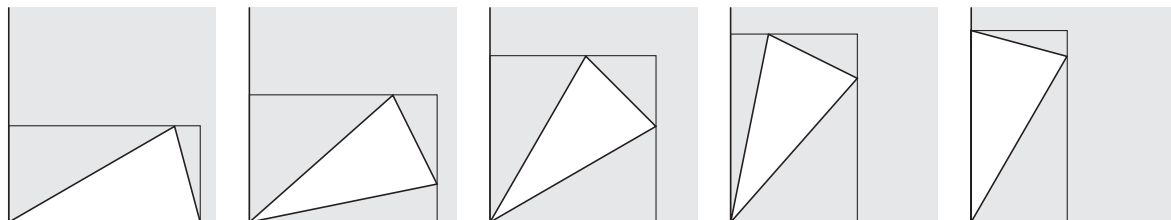
figuur 2



Een gelijkbenige driehoek met een tophoek van  $30^\circ$  ( $\frac{1}{6}\pi$  radialen) en twee zijden van lengte 1 wordt op een rechthoekig blaadje papier gelegd met de top in een hoekpunt van het papier. Zie figuur 2.

Vervolgens wordt door elk van de andere hoekpunten van de driehoek een lijn getrokken evenwijdig aan een rand van het blaadje. Door de getekende lijnen en de randen van het blaadje papier wordt zo een rechthoek gevormd.

figuur 3



In figuur 3 is bij vijf verschillende posities van de driehoek de bijbehorende rechthoek getekend.

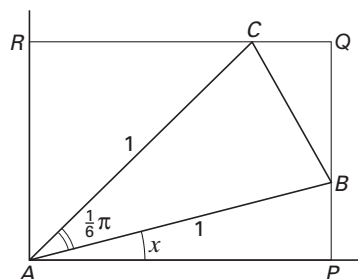
In figuur 4 zijn voor een willekeurige situatie letters bij de hoekpunten gezet.

Om driehoek  $ABC$  met tophoek  $A$  is rechthoek  $APQR$  gevormd.

Bij elke stand van driehoek  $ABC$  hoort een hoek  $PAB$ . Noem de grootte van deze hoek  $x$  radialen, dus  $\angle PAB = x$ , met  $0 \leq x \leq \frac{1}{3}\pi$ .

Verder is  $AB = AC = 1$  en  $\angle BAC = \frac{1}{6}\pi$ .

figuur 4



3p **7** □ Bereken voor welke waarde van  $x$  rechthoek  $APQR$  een vierkant is.

De oppervlakte van rechthoek  $APQR$  is een functie van  $x$  en wordt aangegeven met  $O(x)$ .

Er geldt:  $O(x) = \cos x \cdot \cos(\frac{1}{3}\pi - x)$ .

4p **8** □ Toon dit aan.

Voor de afgeleide functie van  $O$  geldt:  $O'(x) = \sin(\frac{1}{3}\pi - 2x)$ .

5p **9** □ Toon dit langs algebraïsche weg aan.

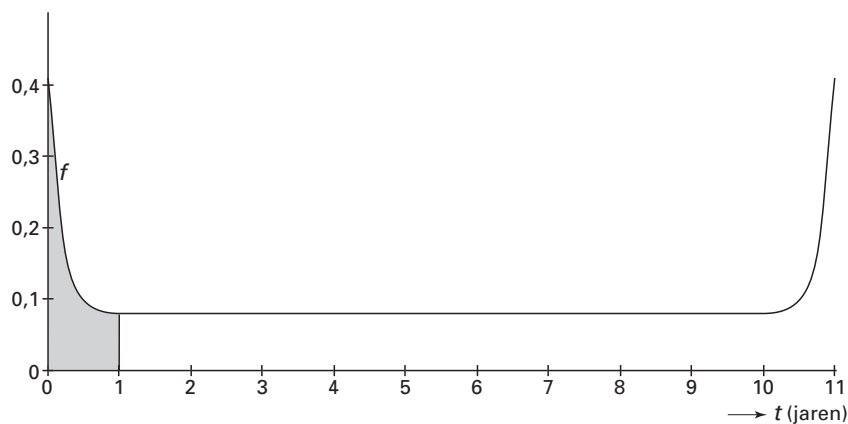
4p **10** □ Bereken de exacte waarden die  $O(x)$  kan aannemen.

## De badkuipkromme

- Bij veel in massaproductie vervaardigde apparaten is de levensduur afhankelijk van het toeval. Bij de modellering daarvan onderscheidt men vaak drie tijdsintervallen:
- een korte *beginperiode*, waarin fabricage- en materiaalfouten aan het licht komen; er gaan dan relatief veel apparaten stuk
  - een (lange) *normale werkperiode*, waarin slechts weinig apparaten stukgaan
  - een korte *eindperiode*, waarin vrijwel alle apparaten door veroudering en slijtage stukgaan.

Figuur 5 illustreert een wiskundig model dat voor de analyse van de levensduur van een bepaald type apparaten gebruikt wordt. Het gaat om apparaten waarbij de begin- en eindperiode beide ongeveer een half jaar duren en de normale werkperiode ongeveer 10 jaar bedraagt. De apparaten worden maximaal 11 jaar oud.

figuur 5



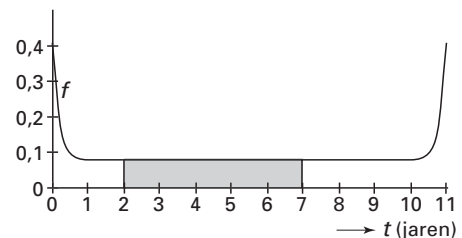
Op de horizontale as van figuur 5 staat de tijd  $t$ , gemeten in jaren. De figuur toont de grafiek van een functie  $f$  waarvoor geldt dat de oppervlakte onder de grafiek op het interval  $0 \leq t \leq 11$  gelijk is aan 1. Voor ieder tijdstip  $a$  tussen 0 en 11 jaar is de kans dat een willekeurig apparaat stukgaat vóórdat het een leeftijd van  $a$  jaren bereikt, gelijk aan de oppervlakte onder de grafiek van  $f$  tussen de tijdstippen  $t = 0$  en  $t = a$ . In figuur 5 is voor  $a = 1$  die oppervlakte grijs aangegeven. De grafiek van  $f$  wordt vanwege de vorm een *badkuipkromme* genoemd.

In dit geval heeft de badkuipkromme de volgende eigenschappen:

- de grafiek is symmetrisch in de lijn  $t = 5,5$
- de oppervlakte onder de grafiek tussen  $t = 0$  en  $t = 1$  is ongeveer 0,14
- de grafiek loopt tussen  $t = 1$  en  $t = 10$  ongeveer horizontaal.

- 4p 11  Bereken met behulp van bovenstaande eigenschappen de kans dat een apparaat een levensduur bereikt tussen 2 en 7 jaar. Zie figuur 6.

figuur 6



- 5p 12  De kans op stukgaan tussen 0 en  $a$  jaar (met  $0 \leq a \leq 11$ ) noemen we  $F(a)$ . Dus  $F(1) \approx 0,14$ . Teken in de figuur op de uitwerkbijlage de grafiek van  $F$ . Licht je werkwijze toe. De grafiek moet in overeenstemming zijn met de hierboven genoemde eigenschappen van de badkuipkromme.

Voor de badkuipkromme van figuur 5 geldt het functievoorschrift

$$f(t) = 0,08 + 2 \cdot 10^{-23} \cdot (t - 5,5)^{30}$$

- 3p 13  Bereken met behulp van dit functievoorschrift de kans op stukgaan tijdens het eerste halfjaar.

# Eindexamen wiskunde B1 vwo 2005-I

havovwo.nl

De fabrikant geeft één jaar garantie op het apparaat. Als het binnen één jaar stukgaat, wordt het gratis vervangen door een nieuw exemplaar. Ook dat kan weer binnen een jaar stukgaan, waarna ook dat exemplaar gratis wordt vervangen, enzovoort.

Iemand koopt vier van deze apparaten.

- 5p **14**  Bereken de kans dat precies één keer een apparaat van deze persoon gratis wordt vervangen door een nieuw exemplaar.

Als de gemiddelde levensduur van een apparaat 5,5 jaar is, geldt voor het trekken van een aselechte steekproef van 150 apparaten: de gemiddelde levensduur van de 150 apparaten in de steekproef is bij benadering normaal verdeeld met verwachtingswaarde 5,5 jaar en standaardafwijking 0,285 jaar.

Van een groep van 150 aselekt gekozen apparaten bleek de gemiddelde levensduur slechts 5,1 jaar te zijn.

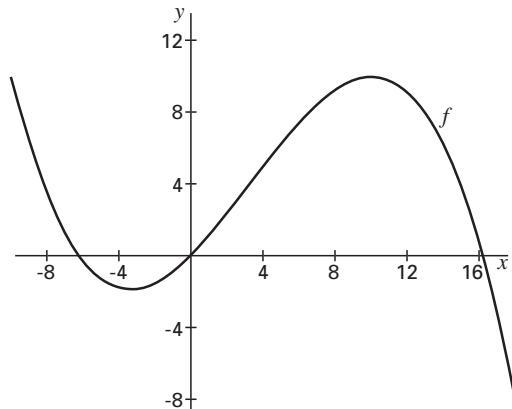
- 5p **15**  Geeft dit voldoende aanleiding om de veronderstelde gemiddelde levensduur van een apparaat naar beneden bij te stellen? Neem een significantieniveau van 10%.

## Richtingen

Gegeven is de functie  $f(x) = -0,01x^3 + 0,1x^2 + x$ .

In figuur 7 is de grafiek van  $f$  getekend.

figuur 7



De raaklijn in de oorsprong aan de grafiek van  $f$  gaat door een top van de grafiek van  $f$ .

- 6p **16**  Toon dit langs algebraïsche weg aan.

Verder is gegeven het punt  $A(0, 4)$ .

Voor elk punt  $P(x, f(x))$  op de grafiek van  $f$  tussen de punten  $O(0, 0)$  en  $(10, 10)$  bekijken we de lijn  $AP$ .

- 4p **17**  Bereken de  $x$ -coördinaat van het punt  $P$  waarbij de lijn  $AP$  de grootste richtingscoëfficiënt heeft.

## Onafhankelijk van $n$

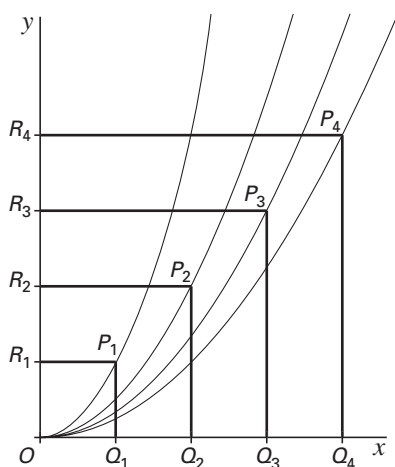
De grafieken van de functies  $y = \frac{1}{2}x^2$  en  $y = x$  sluiten een gebied  $G$  in. Door dit gebied  $G$  te wentelen om de  $x$ -as ontstaat een omwentelingslichaam.

6p **18**  Bereken de exacte waarde van de inhoud van dit omwentelingslichaam.

Voor  $n = 1, 2, 3, \dots$  bekijken we het vierkant  $OQ_nP_nR_n$ , waarvan twee zijden langs de coördinaatassen vallen en waarvan het punt  $P_n(n, n)$  een hoekpunt is.

De grafiek van de functie  $y = \frac{1}{n}x^2$  gaat door  $O$  en door  $P_n$ . In figuur 8 is dit voor  $n = 1, n = 2, n = 3$  en  $n = 4$  getekend.

figuur 8

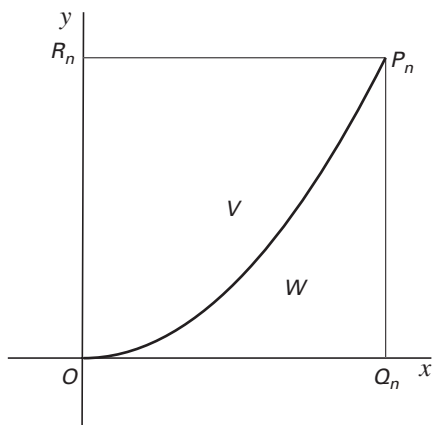


De richtingscoëfficiënt van de raaklijn aan de grafiek van  $y = \frac{1}{n}x^2$  in het punt  $P_n$  is onafhankelijk van  $n$ .

3p **19**  Toon dit aan.

De grafiek van  $y = \frac{1}{n}x^2$  verdeelt het vierkant  $OQ_nP_nR_n$  in twee stukken  $V$  en  $W$ . Zie figuur 9.

figuur 9



De verhouding van de oppervlakten van  $V$  en  $W$  is onafhankelijk van  $n$ .

6p **20**  Toon dit aan.

**Uitwerkbijlage bij vraag 12**

wiskunde B1

**Vraag 12**

