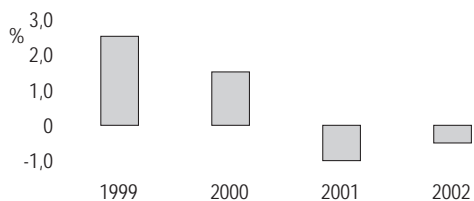


Opgave 2

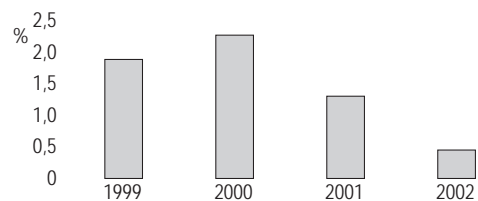
Banenloos herstel

In de Verenigde Staten van Amerika (VS) was er na de eeuwwisseling sprake van 'jobless recovery': na een recessie herstelde de economie zich, maar de arbeidsvraag nam niet toe. In de figuren 1 tot en met 4 staan enkele gegevens met betrekking tot de economie van de VS.

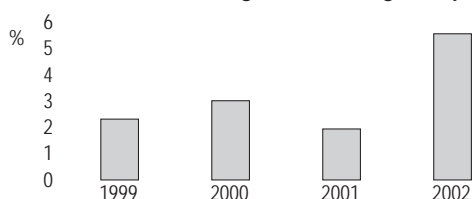
figuur 1: werkgelegenheid in arbeidsjaren
% verandering t.o.v. voorafgaand jaar



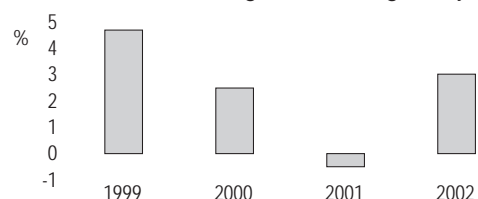
figuur 2: beroepsbevolking in personen
% verandering t.o.v. voorafgaand jaar



figuur 3: arbeidsproductiviteit per arbeidsjaar
% verandering t.o.v. voorafgaand jaar



figuur 4: volume bruto binnenlands product
% verandering t.o.v. voorafgaand jaar



Een Amerikaanse econoom stelt dat op basis van figuur 3 in combinatie met figuur 4 kan worden afgeleid dat er sprake was van 'jobless recovery'. Verder concludeert deze econoom op basis van de figuren 1 en 2: "Vanaf 2001 is de werkloosheid in personen in de VS gedaald."

- 2p **5** Leg uit dat uit de combinatie van figuur 3 en figuur 4 'jobless recovery' is af te leiden.
- 1p **6** Noem een **andere** combinatie van twee figuren, te kiezen uit de figuren 1 tot en met 4, waaruit afgeleid kan worden dat het verschijnsel van 'jobless recovery' zich voordeed.
- 2p **7** Onder welke voorwaarde is de conclusie van de econoom juist? Verklaar het antwoord.

Dezelfde econoom voorspelde dat deze 'jobless recovery' via een beperking van de groei van de looninkomens zou leiden tot een hernieuwde recessie.

- 2p **8** Geef op basis van figuur 4 een argument **tegen** deze voorspelling.